

第二单元 达标测试卷

时间:90 分钟 满分:100 分

题号	一	二	三	四	五	六	七	总分
得分								

kǒu suàn

一、口算。(12 分)

$15-7=$

$13-5=$

$11-2=$

$15-6=$

$11+9=$

$14+6=$

$16-6=$

$12-6=$

$9+3=$

$15-8=$

$10-8=$

$14-7=$

tián yì tián

二、填一填。(每空 1 分,共 34 分)

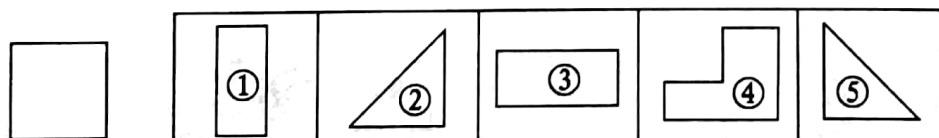
1. 括号里最大能填几?

$(\quad) + 3 < 17$

$15 - (\quad) > 6$

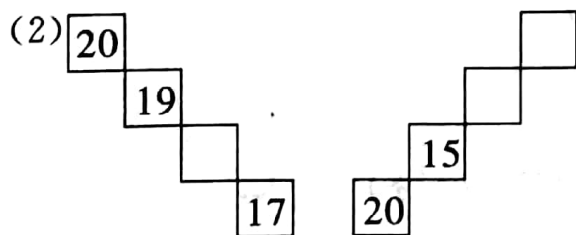
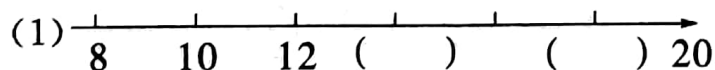
$13 > 7 + (\quad)$

2. 下图中,左边的图形是由右边方框里的图()和图()拼成的。



3. 最大的一位数加上最小的两位数,和为()。

4. 找规律填数。



5. 有 18 支钢笔,每 5 支装一盒,可以装满()盒,还剩()支。

6. 18 13 10 9 11

上面最大的数是(),最小的数是(),最大的数和最小的数相差()。

7. 在○里填上“>”“<”或“=”。

$16-9 \bigcirc 13-7$

$17 \bigcirc 17+0$

$10 \text{ 个一} \bigcirc 20$

$13-8 \bigcirc 11-6$

$4+13 \bigcirc 14+3$

$1 \text{ 个十和} 8 \text{ 个一} \bigcirc 16$

$19-9 \bigcirc 9+10$

$17-8 \bigcirc 16-9$

$20 \text{ 个一} \bigcirc 1 \text{ 个十}$

8. 在括号里填上正确的数。

15 比()多 3。

() 比 12 少 5。

() 比 20 少 5。

17 比()少 3。

() 比 19 多 1。

() 比 12 多 4。

13 比 8 多()。

7 与 6 合起来是()。

比 12 少 8 的数是()。

pàn duàn xià miàn suàn shì de dé shù duì bú duì duì de huà

cuò de huà

三、判断下面算式的得数对不对,对的画“√”,错的画“×”。(8分)

$13-6=5()$

$15-7=9()$

$11-2=9()$

$6+9=15()$

$16+4=20()$

$13-9=5()$

$11-6=5()$

$16-8=8()$

xià miàn shì mā ma mǎi de yì xiē dōng xī

四、下面是妈妈买的一些东西。(15分)



①



②



③



④



⑤



⑥



⑦



⑧



⑨



⑩



⑪



⑫

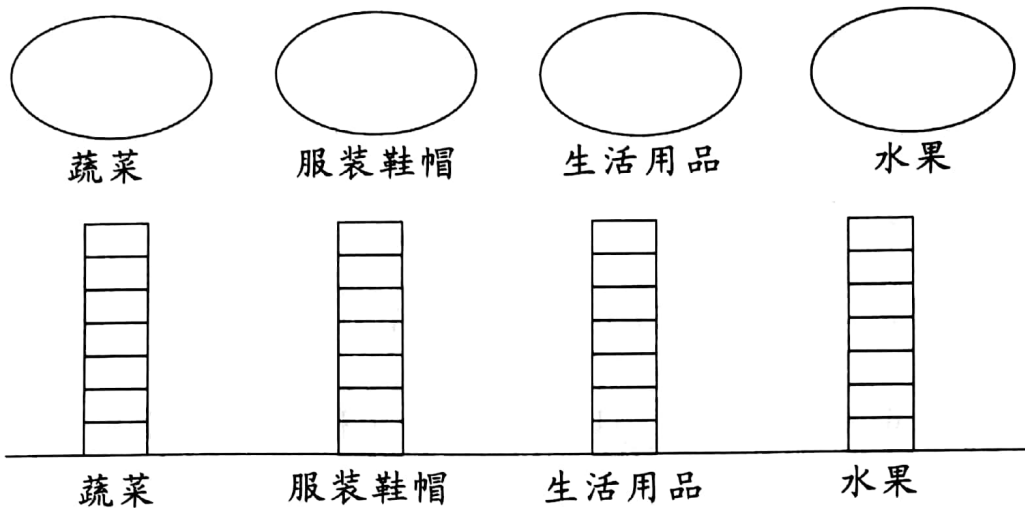


⑬



⑭

1. 把上面的东西分一分,涂一涂。



2. 根据统计结果,回答下面问题。

(1) () 最多,有 () 种。

(2) 妈妈一共买了 () 种东西。


3. 请你再提出一个数学问题并解答。

tiào shéng bǐ sài xiǎo hóng tiào le xià cāi yī cāi xiǎo gāng hé xiǎo huá kě néng
五、跳 绳 比 赛 。 小 红 跳 了 18 下 , 猜 一 猜 小 刚 和 小 华 可 能

tiào le duō shǎo xià zài zhèng què dá àn xià miàn huà "√" (6 分)
跳 了 多 少 下 ? (在 正 确 答 案 下 面 画 "√") (6 分)

小刚可能跳了多少下?

小华可能跳了多少下?



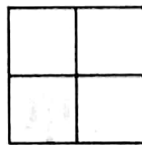

20 下	8 下	15 下



15 下	20 下	100 下

shǔ yì shǔ tú zhōng yǒu duō shǎo gè tú xíng

六、数一数图中有多少个图形。(6分)



()个平行四边形

()个圆

()个正方形

jiě jué wèn tí

七、解决问题。(19分)

1. 小白兔有 15 位朋友，它想送给每位朋友一棵白菜，它还要从菜园里运回多少棵白菜？(5分)

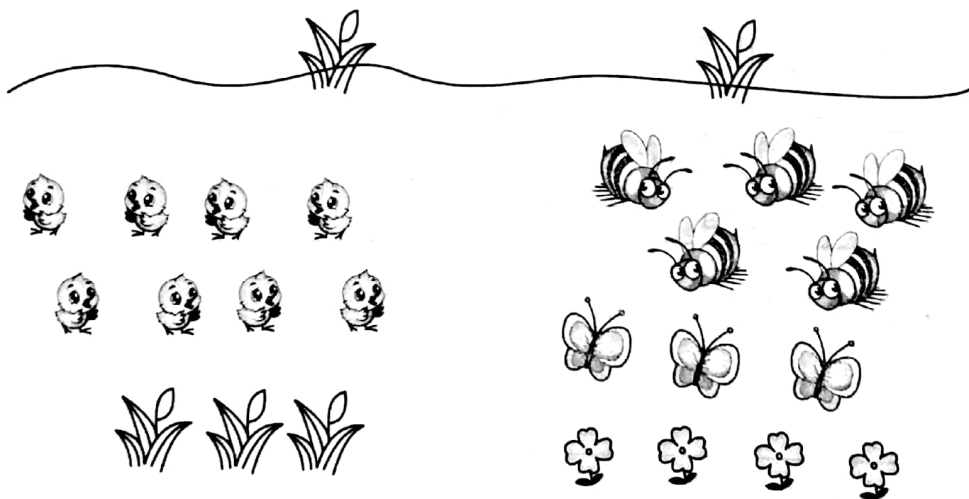


$$\square \bigcirc \square = \square \text{ (棵)}$$

2. 两队进行拔河比赛，第一队有 12 人，第二队有 9 人，要使比赛公平，需要第一队去掉几人？(6分)

$$\square \bigcirc \square = \square \text{ (人)}$$

3. 动物乐园。(8分)



- (1) 小鸡和蝴蝶共有多少只？(4分)

$$\square \bigcirc \square = \square \text{ (只)}$$

- (2) 小鸡和蝴蝶的总数比蜜蜂多多少只？(4分)

$$\square \bigcirc \square = \square \text{ (只)}$$

第二单元

一、略

二、1. 13 8 5 2. ② ⑤ 3. 19

4. (1) 14 18 (2) 18 10 5

5. 3 3 6. 18 9 9

7. $>$ $=$ $<$ $=$ $=$ $>$ $<$
 $>$ $>$ 8. 略

三、略

四、1. 蔬菜：⑥⑦⑨ 服装鞋帽：③④

⑧⑪⑬ 生活用品：①②⑩ 水

果：⑤⑫⑭

2. (1) 服装鞋帽 5 (2) 14 3. 略

五、小刚：15 下 小华：100 下

六、7 4 5

七、1. $15 - 9 = 6$ 2. $12 - 9 = 3$

3. (1) $8 + 3 = 11$ (2) $11 - 5 = 6$